

نموذج اختبار

اختبار شهريناير / الفصل الدراسي الثاني

<ul style="list-style-type: none"> • يميز المواد القابلة للتدوير • يعيد تدوير البلاستيك • يعيد تدوير المخلفات الورقية • يعيد تدوير المخلفات الزراعية 		مخرج التعلم	يطبق مهارات إعادة التدوير	اسم الوحدة
الفصل الثاني	2024	السنة الدراسية / الفصل الدراسي	جمال الشافعي	اسم المدرس
Y1		اسم المجموعة	محمد أحمد الحمادي	اسم الطالبة



أسئلة الاختبار

السؤال الأول	تمييز المخلفات الورقية القابلة للتدوير
السؤال الثاني	تحديد وفرز المخلفات القابلة للتدوير ووضعها في المكان المخصص لها
السؤال الثالث	التعرف على المواد الناتجة عن إعادة تدوير المخلفات الزراعية

70



السؤال الأول: أتعرف على صور المخلفات الورقية القابلة للتدوير فيما يلي.



السؤال الثاني: أضع كل نوع من أنواع المخلفات في المكان المخصص لها





السؤال الثالث: أصل كل نوع من المخلفات بنتيجة إعادة تدويره.





نموذج اختبار			
اختبار شهر يناير / الفصل الدراسي الثاني			
اسم الوحدة	يطبق مهارات إعادة التدوير	مخرج التعلم	<ul style="list-style-type: none">• يميز المواد القابلة للتدوير• يعيد تدوير البلاستيك• يعيد تدوير المخلفات الورقية• يعيد تدوير المخلفات الزراعية
اسم المدرب	جمال الشافعي	السنة الدراسية / الفصل الدراسي	2024 الفصل الثاني
اسم الطالبة	أحلام هلال الحوسني	اسم المجموعة	Y1

أسئلة الاختبار

السؤال الأول	تمييز المخلفات الورقية القابلة للتدوير
السؤال الثاني	تحديد وفرز المخلفات القابلة للتدوير ووضعها في المكان المخصص لها
السؤال الثالث	التعرف على المواد الناتجة عن إعادة تدوير المخلفات الزراعية

80

السؤال الأول: أتعرف على صور المخلفات الورقية القابلة للتدوير فيما يلي.






السؤال الثاني: أضع كل نوع من أنواع المخلفات في المكان المخصص لها



السؤال الثالث: أصل كل نوع من المخلفات بنتيجة إعادة تدويره.





تموذج اختبار اختبار شهر يناير / الفصل الدراسي الثاني			
اسم الوحدة	يطبق مهارات إعادة التدوير	مخرج التعلم	<ul style="list-style-type: none"> • يميز المواد القابلة للتدوير • يعيد تدوير البلاستيك • يعيد تدوير المخلفات الورقية • يعيد تدوير المخلفات الزراعية
اسم المشرب	جمال الشافعي	السنة الدراسية / الفصل الدراسي	2024 الفصل الثاني
اسم الطالبة	سعود حسن الحمادي	اسم المجموعة	Y1

أسئلة الاختبار	
السؤال الأول	تمييز المخلفات الورقية القابلة للتدوير
السؤال الثاني	تحديد وفرز المخلفات القابلة للتدوير ووضعها في المكان المخصص لها
السؤال الثالث	التعرف على المواد الناتجة عن إعادة تدوير المخلفات الزراعية

30



السؤال الأول: أتعرف على صور المخلفات الورقية القابلة للتدوير فيما يلي.



السؤال الثاني: أضع كل نوع من أنواع المخلفات في المكان المخصص لها



•

•

•

•

•

•





السؤال الثالث: أصل كل نوع من المخلفات بنتيجة إعادة تدويره.

